

TC
ÇANKAYA KAYMAKAMLIĞI
BEŞTEPE ŞEHİTLERİ İMAM HATİP ORTAOKULU

2020-2021 EĞİTİM-ÖĞRETİM YILI
5. SINIFLAR GİRİŞ SINAVI KİTAPÇIĞI



Sınav Başlama Saati: 10:30

Sınav Bitiş Saati: 12:00

Sınav Süresi 90 dakikadır.

Yanlış cevaplarınız, doğru cevaplarınızı etkilemeyecektir.

BAŞARILAR DİLERİZ...

TÜRKÇE TESTİ

Bu bölümde Türkçe soruları yer almaktadır. Türkçe soruları 15 sorudan oluşmaktadır. Yanlış cevaplarınız doğru cevaplarınızı etkilemeyecektir.

1) Aşağıdaki sözcüklerden hangisi sözlükte baştan ikinci sırada yer alır?

- A) Kalem
- B) Kalın
- C) Kalay
- D) Kalas

2) "İyi - Kötü" sözcükleri arasındaki anlam ilişkisi aşağıdakilerden hangisinde

vardır?

- A) Yanıt - Cevap
- B) Hediye - Armağan
- C) Güzel - Çirkin
- D) Tabiat - Doğa

3) "Ağır" kelimesi aşağıdaki cümlelerin hangisinde mecaz anlamda kullanılmıştır?

- A) Okul çantası oldukça ağırdı.
- B) Poşetler ağır olduğundan yere bıraktım.
- C) Yolda ağır ağır yürüyordu.
- D) Arkadaşıma ağır sözler söylemiş.

4) Aşağıdaki sözcük çiftlerinden hangisi anlam ilişkisi bakımından diğerlerinden farklıdır?

- A) Tembel - Çalışkan
- B) Vatan - Yurt
- C) Yumuşak - Sert
- D) Aşağı - Yukarı

5) Aşağıdaki sözcük çiftlerinden hangisi karşıt (zıt) anlamlı değildir?

- A) İleri - Geri
- B) Dost - Düşman
- C) Gitmek - Gitmemek
- D) Acı - Tatlı

6) Aşağıdakilerden hangisi aldığı ekle yeni bir sözcük olmamıştır?

- A) Şekerli
- B) Kitaplık
- C) Evde
- D) Simitçi

7) "Kalem" kelimesine aşağıdaki eklerden hangisi getirilirse anlamlı bir kelime oluşur?

- A) -lik
- B) -suz
- C) -dan
- D) -gil

8) Aşağıdaki sözcük dizelerinden hangisi tam bir cümle değildir?

- A) Sınıfımıza yeni bir öğrenci geldi.
- B) Okulumu çok seviyorum.
- C) Soğuk havalarda sıkı giyinmeliyiz.
- D) Yollarda çeşit çeşit çiçekler, ağaçlar

9) " uzat - yorganına - ayağını - göre"
Yukarıda verilen kelimelerle anlamlı bir kelime oluşturulduğunda baştan 3.

kelime hangisi olur?

- A) göre
- B) ayağını
- C) uzat
- D) yorganına

10) Aşağıdaki cümlelerin hangisinde sebe-sonuç ilişkisi vardır?

- A) Bugün annemle çarşıya çıkacağız.
- B) Kardeşime oyuncak araba aldım.
- C) Geç kaldığım için annem beni merak etmiş.
- D) Derslerime düzenli çalışırım.

11) "Ona derslerinde her zaman yardımcı olurum" cümlesinin sonuna hangi noktalama işareti gelmelidir?

- A) Soru işareti
- B) Nokta
- C) Ünlem
- D) Virgül

12) Aşağıdaki cümlelerin hangisinde deyim vardır?

- A) Haberi duyunca küplere bindi.
- B) Geç saatlere kadar ders çalıştım.
- C) Türkçe kitabını evde unutmuş.
- D) Her akşam bir bardak süt içerim.

13) Aşağıdaki cümlelerden hangisinin sonuna soru işareti getirilemez?

- A) Ödevlerini tamamladın mı
- B) Okula neden geç kaldın
- C) Bu soruyu kim yapacak
- D) Bakkaldan iki ekmek al

14) Aşağıdaki cümlelerde altı çizili sözcüklerden hangisi bir varlığı nitelememiştir?

- A) Başlıkları kırmızı kalemle yazmış.
- B) Bahar gelince ağaçlar çiçek açar.
- C) Büyük bahçeyi geçip eve yürüdük.
- D) Kitaplıkta kaldın kitaplar vardı.

15) Aşağıdakilerden hangisi öznel anlamlı bir cümledir?

- A) Sınıfta on iki öğrenci var.
- B) Mavi kazak sana çok yakışmış.
- C) Türkiye'nin başkenti Ankara'dır.
- D) İki kız, bir erkek kardeşim var.

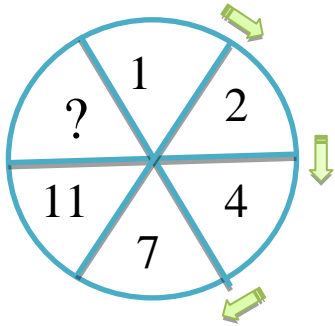
MATEMATİK TESTİ

Bu bölümde Matematik soruları yer almaktadır. Matematik soruları 15 sorudan oluşmaktadır. Yanlış cevaplarınız doğru cevaplarınızı etkilemeyecektir.

1) “Yedi yüz altmış sekiz bin yetmiş yedi” sayısının rakamlarla yazılışı aşağıdakilerden hangisidir?

- A) 786 077
- B) 768 007
- C) 786 777
- D) 768 077

2)



Yukarıdaki şekilde sayılar belli bir kurala göre dizilmiştir. Buna göre “?” yerine hangi sayı yazılmalıdır?

- A) 13
- B) 14
- C) 15
- D) 16

3) $3764+2192$

Yukarıdaki işlemde 1. toplanan en yakın yüzlüğe, 2. toplanan en yakın onluğa yuvarlanarak toplam bulunacaktır. Buna göre tahmini toplam kaçtır?

- A) 5080
- B) 5460
- C) 5990
- D) 6000

4) Üç basamaklı ve dört basamaklı en küçük doğal sayıların toplamı kaçtır?

- A) 1100
- B) 1102
- C) 1200
- D) 1999


5) $K < 65 < L < 90$

Yukarıdaki işlemde K ve L doğal sayılar ise $K+L$ en çok kaç olabilir?

- A) 149
- B) 153
- C) 156
- D) 159

6)



$$\text{▲} + 3000 > 5000 - 1700$$

Yukarıdaki sıralamada  yerine yazılabilecek en küçük doğal sayı kaçtır?

- A) 299
- B) 299
- C) 300
- D) 301

7)

$$\begin{array}{l} \text{▲} - 702 = 1291 \\ \text{◆} + 675 = 1580 \end{array}$$

Yukarıdaki eşitliklere göre  -  işleminin sonucu kaçtır?

- A) 998
- B) 1044
- C) 1088
- D) 1124

8) Bir miktar para 3 arkadaş arasında paylaşılıyor. Emel, Aslı'dan 13TL fazla, Habibe'den 8TL eksik para alıyor. Emel 30TL para aldığına göre 3 arkadaşın paylaştığı toplam para kaç TL'dir?

- A) 75
- B) 80
- C) 85
- D) 92

9)



Bir araç A şehrinden başlayıp B ve C şehirleri üzerinden D şehrine ulaşıyor.

A ve D şehirleri arasındaki uzaklık 450km olduğuna göre B ve C şehirleri arasındaki uzaklık kaç km'dir?

- A) 183
- B) 193
- C) 203
- D) 213

10) 3 arkadaşın 4 yıl sonraki yaşları toplamı 41 olacaktır. Buna göre 3 arkadaşın bugünkü yaşları toplamı kaçtır?

- A) 26
- B) 27
- C) 28
- D) 29

11) Bir otomobil saatte 85km hızla 4 saat, 100km hızla 2 saat yol gidiyor. Otomobilin saatteki ortalama hızı kaç km'dir?

- A) 90
- B) 92
- C) 94
- D) 96

12)

$$\text{●} \times 40 = \text{■} \times 4$$

Yukarıdaki verilen eşitliğe göre aşağıdakilerden hangisi doğrudur?

A) $\text{●} = 10$ ise $\text{■} = 40$ 'tir

B) $\text{●} < \text{■}$

C) $\text{●} = 5$ ise $\text{■} = 40$ 'tir

D) $\text{●} = \text{■}$

13)

Şeyda: Yarım dakikada 39 kelime okuyorum.



Şeyda, 7 dakikada kaç kelime okur?

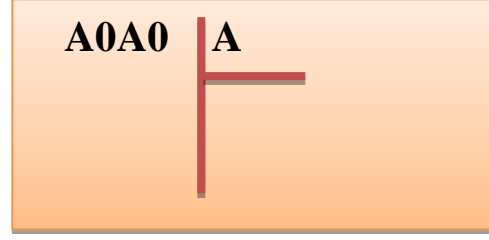
A) 78

B) 195

C) 273

D) 546

14)



Yukarıdaki bölme işleminde A sıfırdan farklı bir sayı olduğuna göre bölüm kaçtır?

A) 1

B) 1010

C) 1100

D) 1001

15) Bir sayının 4 eksiğinin 5 katı 135'tir. Bu sayı kaçtır?

A) 27

B) 29

C) 31

D) 33

8. Markette alışveriş yapan Aysun Hanım alacağı gıdanın öncelikle neyine **bakmalıdır?**

- A) Son kullanma tarihine
- B) Markasına
- C) Paketin rengine
- D) Miktarına

9. Aşağıdaki rahatsızlıklardan hangisine **sigara neden olmaz?**

- A) Akciğer kanseri
- B) Diş çürümesi
- C) Gırtlak kanseri
- D) Egzama

10. Ay'ın Dünya'mızın etrafındaki hareketi aşağıdaki hareket türlerinden **hangisidir?**

- A) Yavaşlama hareket
- B) Dönme hareket
- C) Sallanma hareket
- D) Hızlanma hareket



11. Yukarıdaki atlet batı yönünde koşmaktadır. Rüzgar hangi yöne doğru eserse atlet **daha çok yararlanır?**

- A) Kuzeye
- B) Batıya
- C) Doğuya
- D) Güneye

12. Aşağıda verilenlerden hangisi **suyun görevlerinden biridir?**

- A) Kırılan kemiklerin onarılmasını sağlar.
- B) Büyüme ve gelişmeyi sağlar.
- C) Vücut ısıımızın dengelenmesini sağlar.
- D) Vücutta enerji verici olarak kullanılır.

13. Ekonomik değeri olan minerallerin genel adı aşağıdakilerden hangisidir?

- a) Maden
- b) Kayaç
- c) Toprak
- d) Kömür

14. Aşağıdaki bilgilerden hangisi **yanlıştır?**

- A) Dünya batıdan doğuya doğru döner.
- B) Dünya kendi eksenini etrafında döndüğü için mevsimler oluşur.
- C) Dünya Güneş etrafındaki dolanımını 52 haftada tamamlar.
- D) Dünya kendi etrafında dönme ve Güneş etrafında dolanma hareketi yapar.

15.

- I. Soyları tükenen canlıları tanımamızı sağlar.
- II. Canlıların gelişim dönemleri hakkında bilgi verir.
- III. Bulunduğu yerin geçmişi hakkında bilgi verir.
- IV. Bulunduğu yerin iklim ve bitki örtüsü hakkında bilgi verir.

Yukarıda verilen bilgilerden hangileri **fosillerin faydalarındandır?**

- A) I - II
- B) I - II - III - IV
- C) II - III - IV
- D) III - IV

SOSYAL BİLGİLER TESTİ

Bu bölümde Sosyal Bilgiler soruları yer almaktadır. Sosyal Bilgiler soruları 10 sorudan oluşmaktadır. Yanlış cevaplarınız doğru cevaplarınızı etkilemeyecektir.

- 1) I-Futbol II- Güreş
 III-Karate IV-Okçuluk
 V-Cirit VI-Basketbol

Yukarıdaki oyunlardan hangileri Türklerin tarihten günümüze ulaşan oyunlarından?

- A) II-IV-V
B) II-III-IV
C) I- IV - V
D) II-IV-VI

2) Uydular sayesinde yerimizi tam olarak bulmaya yarayan, Küresel Yer Belirleme Sistemi aşağıdakilerden hangisidir?

- A) GPS B) Pusula
C) Kroki D) Harita

3) Aşağıdakilerden hangisi deprem öncesinde yapmamız gerekenlerden değildir?

- A)Deprem çantası hazırlamak.
B)Sarsıntı esnasında devrilebilecek eşyaları duvara sabitlemek.
C)Ailemizle depremde sonra bir buluşma noktası belirlemek.
D)Dere yataklarına ev yapmak

4) Aşağıdaki olayları kronolojik sıraya koyduğumuz zaman ilk önce hangi olay yaşanmış olabilir?

- A) Okumaya başladım.
B) Koşmaya başladım.
C) Emeklemeye başladım.
D) Yazıya başladım.

5) Aşağıdakilerden hangisi aile tarihini araştıran birisi tarafından yapılmaz?

- A) Aile büyüklerinin fotoğrafını toplamak
B) Aile büyükleri ile görüşmek
C) Aileye ait eski eşyaları toplama
D) Ailenin geleceği hakkında konuşmak

6) Milli Mücadele'den sonra bazı şehirlerimize göstermiş olduğu başarılarından dolayı unvanlar verilmiştir. Bunlardan hangisi aşağıda yanlış belirtilmiştir?

- A) Maraş – Kahramanmaraş
B) Kale – Kırıkkale
C) Urfa – Şanlıurfa
D) Antep – Gaziantep

7) Mustafa Kemal Atatürk, Milli Mücadele için sırayla hangi il ve ilçeleri gezmiştir?

- A) Samsun, Havza, Amasya, Sivas, Erzurum, Ankara
- B) Samsun, Sivas, Sakarya, Erzurum, Ankara
- C) Sivas, Erzurum, Ankara, Samsun, Havza
- D) Samsun, Sivas, Erzurum, Havza, Amasya, Ankara

8) Ege tekvando yapmayı, Eren gitar çalmayı çok sever. Bu durum onların hangi özelliklerinin farklı olduğunu gösterir?

- A) Kimlik özellikleri
- B) Duygusal özellikleri
- C) Aile yapısı
- D) İlgi ve yetenekleri

9) “Beş parmağın beşi bir olmaz.” atasözü aşağıdakiler den hangisiyle ilgilidir?

- A) İnsan sevgisi
- B) Sorumluluk
- C) Bireysel farklılık
- D) Düşüncelere saygı





10-Aşağıdakilerden hangisi bir hava olayı değildir?

- A) Yağmur
- B) Deprem
- C) Sis
- D) Kar

İNGİLİZCE TESTİ

Bu bölümde İngilizce soruları yer almaktadır. İngilizce soruları 10 sorudan oluşmaktadır. Yanlış cevaplarınız doğru cevaplarınızı etkilemeyecektir.

1) Aşağıdaki ülke-bayrak eşleştirmelerinden hangisi yanlıştır?

- A)  **Japan** B)  **China**
- C)  **The USA** D)  **Germany**

2) Nesnelerin doğru sıralandığı seçeneği işaretleyiniz.



- A) notebook – scissors - chair – pencil
B) book - scissors - pencil - notebook
C) pencil sharpener – pencil – desk – notebook
D) pencil sharpener – scissors – chair – notebook

3) Nora: ?
Helena: I'm from Britain. I'm British.

Aşağıdaki sorulardan hangisi yukarıdaki diyalogu tamamlamak için uygundur?

- A) Where are you from?
B) Where is Britain ?
C) Where is she from ?
D) Where is Helena ?

4) Where is Erzurum?

- A) It is Turkey.
B) It is in the East of Turkey.
C) Yes, it is.
D) No, it isn't.

5) $65 - 15 = ?$

İşleminin sonucu kaçtır?

- A) Seventy B) Fifty
C) Eighty D) Ninety

6)




Resimdeki öğrenci arkadaşlarına hangi cümleyi söyler?

- A) Sit down.
B) Open the door.
C) Be quiet.
D) Clean the board.

7) Aşağıdaki konuşma balonunda noktalı yere gelecek uygun kelimeyi işaretleyiniz.

Yes you may .



A) write

B) close

C) turn

D) come

8)

Burcu: What is your favourite activity?

Kerem: My favourite activity is_____.

Yukarıdaki boşluğa resme göre hangi ifade gelmelidir?

- A) riding a bike
- B) watching cartoons
- C) playing the guitar
- D) reading comics

9)



Yukarıdaki resme uygun seçeneği bulunuz?

- A) swimming
- B) climbing
- C) flying
- D) running

10)



This is my camera. I can _____.

Yukarıdaki boşluğa aşağıdakilerden hangisi getirilebilir?

- A) ride it
- B) drive it
- C) take pictures
- D) read it

DİN KÜLTÜRÜ TESTİ

Bu bölümde Din Kültürü soruları yer almaktadır. Din Kültürü soruları 10 sorudan oluşmaktadır. Yanlış cevaplarınız doğru cevaplarınızı etkilemeyecektir.

1. Aşağıda verilenlerden hangisi dinimizde yapılması **doğru olmayan davranışlardandır?**

- A) İnsanları aldatmak
- B) Güzel söz söylemek
- C) İbadet etmek
- D) Dürüst olmak

2. Aşağıdakilerden hangisinde dini bir ifade **kullanılmamıştır?**

- A) Gözleri boncuk gibi maşallah.
- B) Zor şartlarda görev yapan askerimize Allah yardım etsin.
- C) İnşallah sınavda başarılı olursun.
- D) Üç haftadır sınava çalışıyor.

3. Bir işi yapmadan önce besmele çekmemizin nedeni aşağıdakilerden **hangisi olamaz?**

- A) Allah'a şükür için.
- B) Ailemiz istediği için.
- C) Allah'ı anımsamak için.
- D) İşlerimizi kolaylaştırmak için.

4.

- **Şükür - Elhamdülillah**
- **Tekbir - Allahüekber**
- **Salavat - Allahümme salli ala Muhammed**

Yukarıda verilen eşleştirmelerden kaç tanesi **doğrudur?**

- A) 1
- B) 2
- C) 3
- D) Hiçbiri

5.

- Dini doğru öğrenmek insanı kötü davranışlardan uzak tutar.
- Selam vermek iyi niyet ve dostluk ifadesidir.
- İnsanlara teşekkür etmek, Allah'a şükretme alışkanlığı kazandırır.
- Dilek ve dualarımızda Allah'ın adını anar ve ondan yardım dileriz.

Yukarıda verilen ifadelerden kaç tanesi **doğrudur?**

- A) 1
- B) 2
- C) 3
- D) 4

6.

- **Hacca gitmek**
- **Namaz kılmak**
- **Oruç tutmak**
- **Camiye gitmek**

Yukarıdakilerden kaç tanesi
İslam'ın **şartlarındandır** ?

- A) 1
- B) 2
- C) 3
- D) 4

7. Allah'ın insanlara Kutsal kitap
göndermesinin sebebi
aşağıdakilerden **hangisidir** ?

- A) Boş zamanlarında okumaları için
- B) Kitapları görmeleri için
- C) Doğru yolu bulmaları için
- D) Saklamaları için.

8.Hz. Muhammed (s.a.v.)'e kaç
yaşındayken **peygamberlik görevi**
verilmiştir ?

- A) 25
- B) 35
- C) 40
- D) 45

9.Cebrail (a.s.)'in Hz. Muhammed
(s.a.v.)'e **ilk seslenişi** aşağıdakilerden
hangisidir ?

- A) Oku
- B) Konuş
- C) Yaz
- D) Sus

10. Aşağıda verilenlerden hangisi
dinimizin uygun görmediği yapmamızda
sakınca olan davranışlara **denir** ?

- A) Helal
- B) Haram
- C) Sevap
- D) İyilik

SINAV SONA ERMİŞTİR.